

پیک فیلم هفتگی



+ صفحات جادویی
واقعیته افزوده

دوم دبستان

۲



راهنمای نصب پشت پرده



کافیه پیک فیلم رو نصب کنین!



گروه تخصصی کودک و نوجوان

مدیر فروش: ۰۹۱۰۲۰۱۵۲۰۰

Instagram: salampub

Telegram: @Salam_PUB

Website: www.salampub.com

پیک هفتگی

به همراه ویدئوهای آموزشی (معلم خصوصی)



کلاس:

دبستان:

نام و نام خانوادگی:



هدیه های آسمان: درس چهارم
فارسی: درس اول (صفحه ۵ تا ۹)

قرآن: درس دوم (صفحه ۱۱ تا ۱۵)
ریاضی: فصل اول (صفحه ۱۴ تا ۱۸)
علوم: درس دوم



قرآن و هدیه



اصبروا و صابروا و رابطوا

۱) عبارت قرآنی مقابل را بخوانید:

به نظر شما این آیه ما را به چه کار خوبی دعوت می کند؟

والتین و الزیتون

۲) اتصالات را با فلش مشخص کنید: رب العالمین

۳) تاکنون چه کارهای خوبی انجام داده اید؟

۴) چگونه می توانیم از نعمت های خداوند تشکر کنیم؟

خیلی خوب خوب قابل قبول نیاز به تلاش بیشتر



ریاضی

۱) حاصل عبارات زیر را به دست آورده و با توجه به الگو رنگ کنید.

۶۳

۲۵

۲۱

۱۵

$$۱۰ + ۱۰ + ۵ = \bigcirc$$

$$۲۰ + ۳۰ + ۱۰ + ۳ = \bigcirc$$

$$۵ + ۵ + ۵ = \bigcirc$$

$$۵ + ۵ + ۵ + ۵ + ۳ + ۲ = \bigcirc$$

$$۵ + ۳ + ۳ + ۱۰ = \bigcirc$$

$$۳ + ۸ + ۲ + ۳۰ + ۲۰ = \bigcirc$$



۲ در الگوی هشت تا هشت تا، چهارمین عدد برابر است با

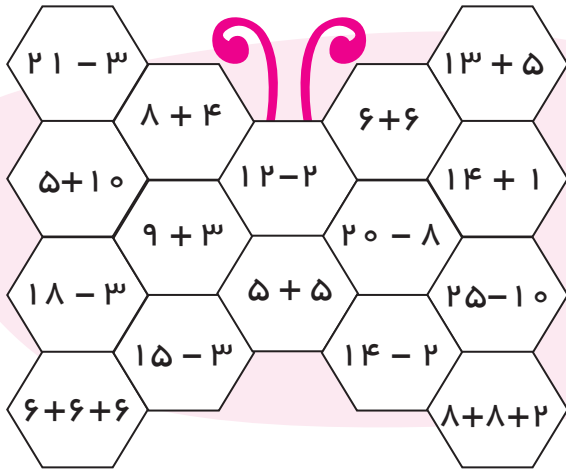
۳ با ارقام (۶ و ۴ و ۲) اعداد خواسته شده را بنویسید:

- کوچکترین عدد دو رقمی که حاصل دهگان و یکانش ۱۰ باشد:

- بزرگترین عدد دو رقمی:

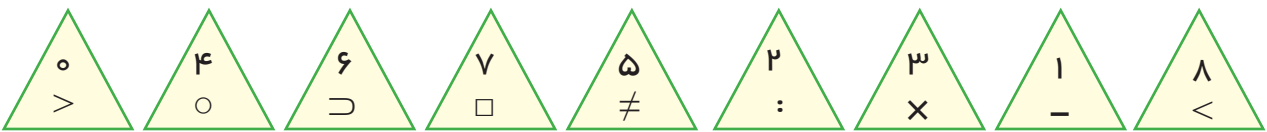
- بزرگترین عدد دو رقمی که حاصل تفریق ارقامش ۴ باشد:

۴ با توجه به الگوی داده شده رنگ آمیزی کنید.



۵ امیر ۴ بسته‌ی مداد رنگی دارد. هر بسته ۶ مداد دارد. او چند مداد رنگی دارد؟ (از راه الگوی عددی)

۶ مانند نمونه، کامل کنید.



$4 + 6 = 10 \rightarrow >$ $4 + 2 = \bigcirc \rightarrow$ $10 + 2 + 3 = \bigcirc \rightarrow$

$7 + 6 = \bigcirc \rightarrow$ $5 + 3 = \bigcirc \rightarrow$ $3 + 6 + 3 = \bigcirc \rightarrow$

خیلی خوب خوب قابل قبول نیاز به تلاش بیشتر



۱ چهار کلمه ی یک نقطه ای در درس کتاب خانه ی کلاس ما را پیدا کنید و بنویسید.



۲ چهار کلمه خارج از درس کتاب خانه ی کلاس ما را پیدا کنید که در آخر آن (ای) مستقل قرار بگیرد.



۳ کلمه های زیر را مرتب کنید و جمله بسازید.

کتاب - دوست - خوب - مانند - خوب



۴ در جاهای خالی کلمه‌هایی را بنویسید که با «هم» آغاز شوند.


من با کمک شروع به نوشتن نظر خود کردیم که ناگهان
دیگرم، مرا صدا زد و گفت: می‌توانیم با نتیجه‌ی بهتری بگیریم. وقتی زنگ
تفریح به صدا درآمد معلم از کلاس خارج شدیم.

۵ از والدین خود بخواهید، کلمه‌ها را برای شما بخوانند، سپس شما کلمه‌هایی را که صدای اولشان مثل هم است را بازگو کنید.

آسمان - تاب - آبی کاسه - لباس - کوه شاد - شور - سرد - شمع
سلام - سیب - یتیم تازه - شانه - خانه - توپ لانه - شانه - لب - تب

۶ شعر یار مهربان از کیست؟

۷ بند اول درس کتاب خانه ی کلاس ما را بدون نقطه بنویسید.





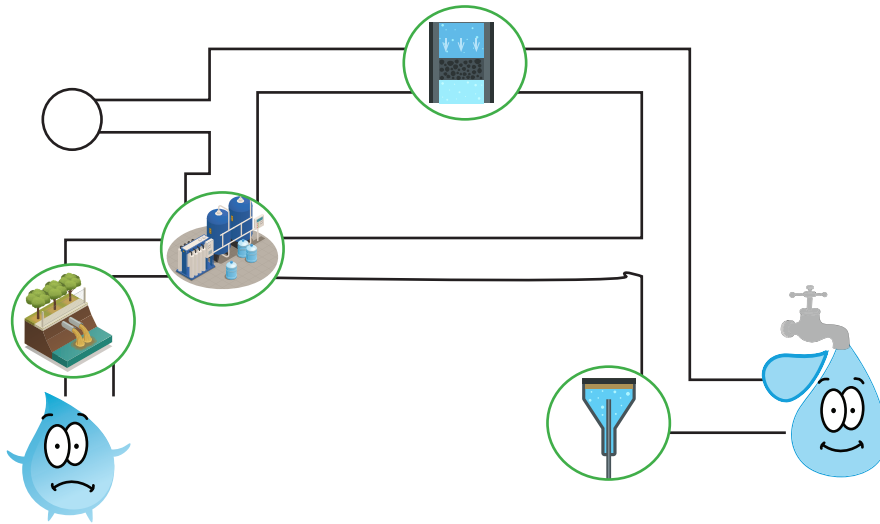
۱ اگر یک پاک کن جادویی داشتید که می توانست هر چیزی را پاک کند، شما چه چیزهایی را پاک می کردید؟



۲ چه اتفاقی برای جانور تصویر مقابل خواهد افتاد؟



۳ راه تصفیه ی آب را به ترتیب نشان دهید و قطره را خوش حال کنید.



۴ از چه راههایی می توانیم در مصرف آب صرفه جویی کنیم؟

خیلی خوب خوب قابل قبول نیاز به تلاش بیشتر

نظر یا پیشنهاد والدین:

ارزیابی آموزگار:



کلاس:

دبستان:

نام و نام خانوادگی:



هدیه‌های آسمان: درس نهم
فارسی: درس ششم (صفحه ۳۶ تا ۴۱)


قرآن: درس پنجم (صفحه ۲۶ تا ۳۳)
ریاضی: فصل سوم (صفحه ۴۴ تا ۵۴)
علوم: درس پنجم



قرآن و هدیه

۱ پیام قرآنی زیر را کامل کنید و سپس معنای آن را بنویسید.

و مَا بِكُمْ مِنْ فَمِنْ اللَّهِ



۲ از صفحه ۳۸ کتاب درسی کلماتی که نشانه «ه، ه» دارند را بنویسید.

۳ ما در کدام قسمت نماز به پیامبر و اهل بیت او درود می‌فرستیم؟

۴ دعای پیامبر (ص) برای اهل بیتش چه بود؟

Decorative box with dotted lines for writing the answer to question 4.

خیلی خوب خوب قابل قبول نیاز به تلاش بیشتر

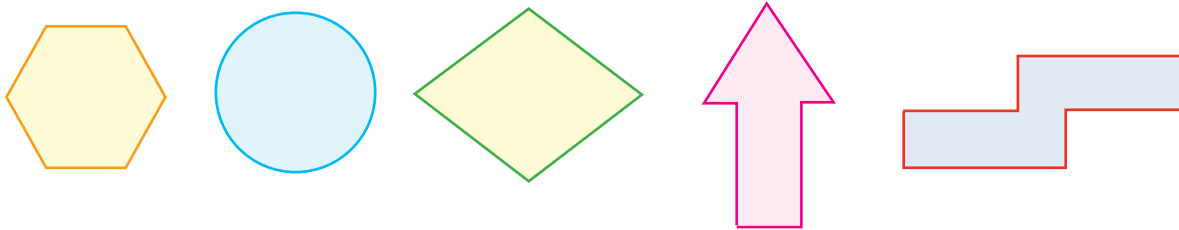


ریاضی


۱ با رنگ آمیزی خانه‌های شکل زیر، اسم خودتان را نشان بدهید.

Grid for coloring to write the student's name.


۲ خط تقارن شکل‌های زیر را رسم کنید. کدام یک خط تقارن ندارد؟




۳ زمان‌های خواسته شده را روی هر ساعت نمایش دهید.




یک ربع مانده به ۲



نیم ساعت بعد از ۹



یک ربع بعد از ۴



نیم ساعت مانده به ۸

۴ حاصل جمع و تفریق‌های زیر را به روش فرایندی به دست آورید.

$$\begin{array}{r} 78 \\ - 34 \\ \hline \end{array}$$

$$\begin{array}{r} 65 \\ + 21 \\ \hline \end{array}$$

$$\begin{array}{r} 59 \\ - 37 \\ \hline \end{array}$$

$$\begin{array}{r} 43 \\ + 24 \\ \hline \end{array}$$

۵ کامل کنید.

۸۰ منهای ۵ دسته‌ی ۱۰ تایی می‌شود ده‌تایی.

شکلی هستیم که سه گوشه و سه ضلع داریم

خطی هستیم که شکل را به دو نیمه‌ی مساوی تقسیم می‌کنم

خیلی خوب خوب قابل قبول نیاز به تلاش بیشتر



فارسی

۱ کلمه‌های زیر را با حروف مناسب کامل کنید.

دارکو..... ، پر..... از ، تم..... ین ، شیب..... ، ت..... میم

۲ نام کدامیک از شاعران بزرگ ایران در درس آمده است؟

۳ اگر به جای نوشا بودید، چه کاری می کردید؟

۴ جزء مشترک در هر گروه از کلمه ها را پیدا کنید.

جزء مشترک

دانشجو - دانش آموز - دانشمند

کارخانه - کارمند - کارگاه

سخن گو - راستگو - بلندگو

۵ کلمه هایی که دارای نشانه ی «ه» هستند، را پیدا کنید و جدول زیر را کامل کنید.

صدای ا می دهند	صدای ه می دهند

۶ از حکایت خوش اخلاقی یاد می گیریم که هنگام عصبانیت خشم را از بین می برد.

۷ با هر دو کلمه یک جمله بسازید.

خسته، تلاش:

تصمیم، شعر:

۸ جمله ی زیر را به دو صورت، سؤالی کنید.

دست های خود را باید شست.

خیلی خوب خوب قابل قبول نیاز به تلاش بیشتر



۱) جاهای خالی را کامل کنید.

به صدای نازک و به صدای کلفت می گویند.
 سر و صدا و بوق زدن موجب آلودگی می شود.
 صدای گریه‌ی نوزاد و صدای جیغ بچه‌ها است.
 در حرم امام رضا، زمان طلوع و غروب خورشید را با به مردم اطلاع می دهند.

۲) آیا شما دیدن فیلم بدون صدا را دوست دارید؟ چرا؟

۳) چه کارهایی انجام دهیم تا گوش‌هایمان سالم بماند؟

.....

.....

۴) چرا نباید جلو بیمارستان‌ها بوق زد؟



۵) این تصویر چه نام دارد و چه کمکی به ما می کند؟



۶) بازی آینه را انجام دهید. یک نفر جلو آینه می‌نشیند و دیگری پشت سر او می‌ایستد و کلمه‌ها را بدون تولید صدا بیان می‌کند، با دقت به حرکات لب بگویند چه کلماتی گفته است؟

خیلی خوب
 خوب
 قابل قبول
 نیاز به تلاش بیشتر

نظر یا پیشنهاد والدین:

ارزیابی آموزگار:



کلاس:

دبستان:

نام و نام خانوادگی:



هدیه های آسمان: درس چهاردهم
فارسی: درس دهم (صفحه ۶۳ تا ۶۹)

قرآن: درس هشتم (صفحه ۵۴ تا ۵۵)
ریاضی: فصل پنجم (صفحه ۸۵ تا ۹۰)
علوم: درس نهم (صفحه ۶۴ تا ۶۹)



قرآن و هدیه

۱ برای هر شکل همزه، دو کلمه پیدا کنید و بنویسید.



۲ با توجه به پیام قرآنی روبه‌رو یک نقاشی بکش.

اِنَّ اشْكُرْلِي وَاِلٰلٰهِيكَ

۳ کامل کنید.

..... فرمود: هر کس حسین را دوست داشته باشد، خدا او را دوست دارد.

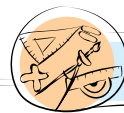
حاکم ستمگر زمان امام حسین (ع) نام داشت.

امام حسین امام ما بود که در روز به شهادت رسید.

نام:
نام پدر:
نام مادر:
محل تولد:

۴ صفحه شناسنامه امام حسین (ع) را کامل کنید.

خیلی خوب خوب قابل قبول نیاز به تلاش بیشتر




ریاضی

۱ طول هر کدام را با کمک خط‌کش به دست آورید و سپس از کوچک به بزرگ مرتب کنید.

جامدای	مداد قرمز	کیف مدرسه	میز	دفتر مشق	کتاب ریاضی	اندازه



۲ ضلع‌های شکل روبه‌رو را با خط‌کش اندازه‌گیری کنید.



۳ با استفاده از خط‌کش، خط‌های خواسته شده را رسم کنید.

۲۵ میلی‌متر

۵۱ میلی‌متر


۴ با کمک خط‌کش اندازه‌گیری کنید و خطوط مساوی را هم رنگ کنید.



۵ مجموع ضلع‌های شکل روبه‌رو را حساب کنید.



۶ عقربه‌ی بزرگ چند دقیقه باید حرکت کند تا ساعت هفت و نیم شود؟



۷ هر سانتی‌متر به قسمت مساوی تقسیم شده است که به هر قسمت می‌گویند.

۸ چوبی ۵۶ میلی‌متر طول دارد. برای تکمیل کاردستی باید این چوب ۶ سانتی‌متر باشد. به چند میلی‌متر دیگر چوب نیاز داریم؟

خیلی خوب خوب قابل قبول نیاز به تلاش بیشتر



۱ کلمه های زیر را مرتب کنید و جمله بسازید.

نقاشی - من - بودم - دیشب - سرگرم - کردن



و - هنرمند - داشته - صبر - باشد - حوصله - باید

۲ با ترکیب کلمه های ردیف بالا و پایین کلمه جدید بسازید.

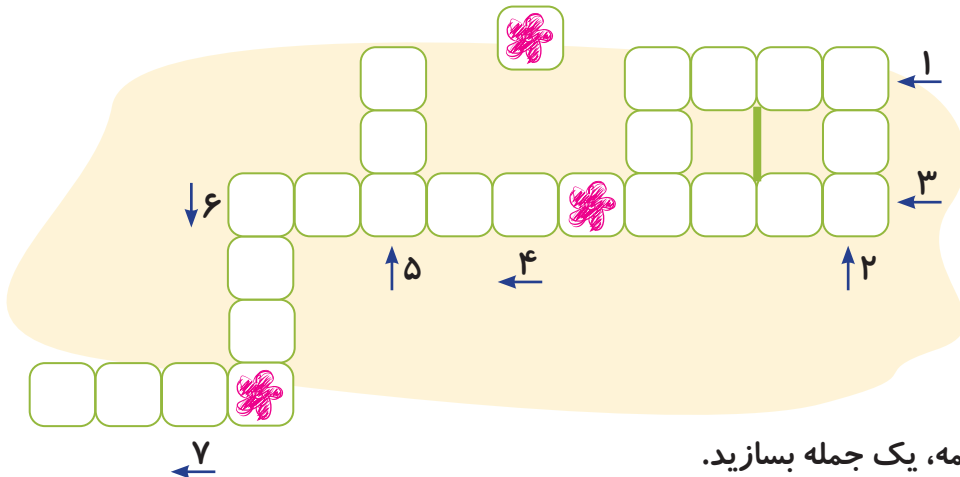
Empty box for writing a new word

خانه - گر - آموز - چین

دانش - سخن - بازی - نماز

۳ با توجه به درس هنرمند، جدول زیر را کامل کنید.

- ۱- هم معنی سعی.
- ۲- هر کاری با و فکر انجام شود، هنر است.
- ۳- قبل از امشب.
- ۴- هنرمند باید صبر و داشته باشد.
- ۵- برای موفق شدن در کارها باید داشته باشیم.
- ۶- قالی بافی هم است.
- ۷- عکاس بدون «ا».



۴ برای هر جفت کلمه، یک جمله بسازید.

دقت و فکر:

صبر و حوصله:

- خیلی خوب
- خوب
- قابل قبول
- نیاز به تلاش بیشتر





۱ دانه برای رشد کردن به چه چیزهایی نیاز دارد؟

۲ با توجه به دانه‌های اطرافتان جدول زیر را تکمیل کنید.

دانه‌های غیر خوراکی	دانه‌های خوراکی

۳ با توجه به تصاویر زیر مراحل زندگی میوه را به ترتیب شماره گذاری کنید.



۴ یک گیاهک دارای چه قسمت‌هایی است؟

خیلی خوب
 خوب
 قابل قبول
 نیاز به تلاش بیشتر

نظر یا پیشنهاد والدین:

ارزیابی آموزگار:



نام و نام خانوادگی:

دبستان:

کلاس:



هدیه‌های آسمان: مرور (درس ۱۵ تا ۲۰)
فارسی: درس پانزدهم (صفحه ۹۲ تا ۱۰۰)

قرآن: درس سیزدهم (صفحه ۸۵ تا ۸۹)
ریاضی: فصل هفتم (صفحه ۱۱۶ تا ۱۲۰)
علوم: فصل ۱۲ (صفحه ۸۲ تا ۸۹)



قرآن و هدیه

۱ جاهای خالی را کامل کنید.

خداوند در سوره‌ی تین به میوه‌های و اشاره کرده است.
منظور از قهرمان بت شکن است.

۲ اتصالات آیات زیر را مشخص کنید.

۳ در هر نماز چند رکعت می‌خوانیم؟
و هذا البلد الامین اَیْسَ اللّٰهُ بِاِحْکَمِ الْحَاکِمِیْنَ

نماز صبح نماز ظهر نماز عصر نماز مغرب نماز عشا

۴ سلام کردن نشانه‌ی و است.



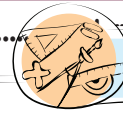
۵ در هر کدام از زمان‌های مشخص شده چه نمازی خوانده می‌شود؟

الف) قبل از طلوع آفتاب:

ب) بعد از غروب آفتاب:

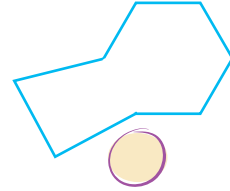
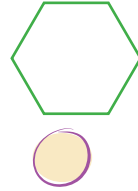

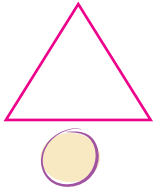
۶ امام حسین (ع) می‌فرماید: سلام کردن پاداش دارد که پاداش برای کسی که سلام می‌کنید و پاداش برای کسی که جواب سلام را می‌دهد.

خیلی خوب خوب قابل قبول نیاز به تلاش بیشتر



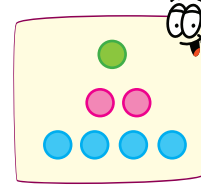
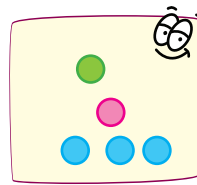
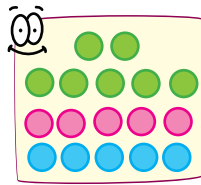
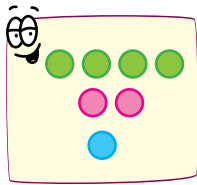
الف) قسمت مسابری پرچم سفید است.

۱) تعداد گوشه‌های هر شکل را بنویسید.

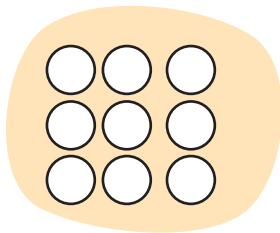


به نظر شما یک شکل ۷۵ ضلعی، چند گوشه دارد؟

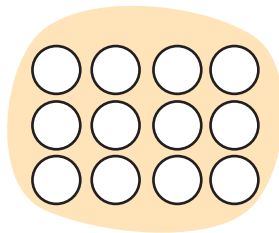
۲) احتمال بیرون آمدن کدام رنگ در هر جعبه بیشتر است؟



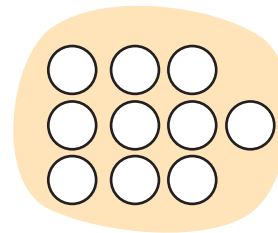
۳) مهره‌ها را با توجه به احتمال داده شده رنگ کنید. (در هر کدام از ۳ رنگ آبی، زرد، قرمز استفاده کنید)



زرد



قرمز



آبی

۴) ناهید ۳۵۷ ریال پول داشت. او یک خودکار ۱۳۹ ریالی خرید. چند ریال برایش باقی مانده است؟ (به صورت تقریبی)

۵) با توجه به پرچم کشورمان جمله‌ها را کامل کنید.

الف) قسمت از قسمت مسابری پرچم سفید است.

ب) قسمت از قسمت مسابری پرچم سبز است.



خیلی خوب
 خوب
 قابل قبول
 نیاز به تلاش بیشتر



۱ هر کدام از سین‌های سفره هفت سین، نشانه‌ی چیست؟

							سین
							نشانه‌ی

۲ غلط‌های املائی متن زیر را پیدا کنید و شکل صحیح را بنویسید.

مردم ما بیش از نورز، خانه تکانی می‌گنند. در جشن نیکوکاری سرکت می‌کنند و برای تهویل سال، سفره‌ی هفت سین می‌چینند. بعزی در سفره‌ی هفت سین، تخم مرق‌های رنگ کرده، گل و شیرینی هم می‌گزارند.

۳ جای خالی را کامل کنید و کلمه‌های جدید بسازید.

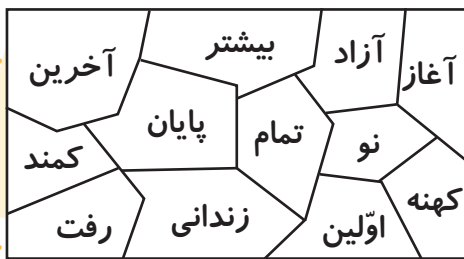
کار

کار

کار

کار

۴ کلمه‌های مخالف را هم رنگ کنید.



۵ جدول زیر را کامل کنید.

گرسنه	مادر	زنده	شمع	درخت	پرنده	ان
						ها

۶ حروف را مرتب کنید و با کلمه‌ی بدست آمده جمله بسازید.

ق - ا - ل - خ - ا

ح - ظ - ه - ل



۱) یک لیوان آب را چگونه به شکل‌های زیر تبدیل کنیم؟

بخار آب	یخ


۲) یک بادکنک را باد کردیم و یکی را آب، کدام یک بالا می‌رود؟ چرا؟

۳) با دقت به اطراف مشاهده کنید و جدول زیر را کامل کنید.




	جامد
	مایع
	گاز

۴) کدام یک زودتر جای پارک پیدا می‌کند؟



۵) وسایل زیر را با توجه به جایی که می‌گیرند، از کمتر به بیشتر مرتب کنید.



۶) کدام کتاب درسی شما حجم بیشتری دارد؟

خیلی خوب خوب قابل قبول نیاز به تلاش بیشتر

نظر یا پیشنهاد والدین:

ارزیابی آموزگار:



پیک فیلم هفتگی ۳۰

بایه دوم

نام و نام خانوادگی: دبستان: کلاس:



قرآن: درس چهاردهم (صفحه ۹۸ تا ۱۰۴)
 ریاضی: مرور کل کتاب
 علوم: فصل چهاردهم (صفحه ۹۸ تا ۱۰۳)
 هدیه های آسمان: مرور (درس ۱۵ تا ۲۰)
 فارسی: درس هفدهم (صفحه ۱۰۷ تا ۱۱۴)



قرآن و هدیه

۱ آتش برای کدام پیامبر تبدیل به گلستان شد؟

حضرت نوح
 حضرت ابراهیم
 حضرت محمد
 حضرت موسی

۲ برای هر پیام قرآنی یک تصویر مناسب بچسبانید یا نقاشی کنید.

وَأَعْمَلُوا صَالِحاً



إِنَّ مَعَ الْعُسْرِ يُسْرًا



۳ کلمه های هم معنی را یک رنگ کنید.

رُطْب	أَنْجِير	تِين	عَنْب
انار	انگور	خرما	رُمَّان

۳ آداب صحیح غذا خوردن را بنویس.

خیلی خوب
 خوب
 قابل قبول
 نیاز به تلاش بیشتر



ریاضی

۱ کتابی ۵۴ صفحه دارد. مصطفی ۲۱ صفحه از آن را خوانده است. چند صفحه باقی مانده است؟

«به روش فرآیندی»




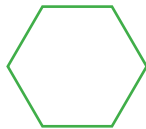
- ۲) عدد ۲۲۴ به نزدیک تر است یا به ؟ به
 عدد ۱۰۸ به نزدیک تر است یا به ؟ به
 عدد به ۵۰ نزدیک تر است یا به ۶۰ ؟

۳) مادرم یک تولد را به شکل زیر تقسیم کرد. من ۲ قسمت و برادرم ۳ قسمت از کیک را خوردیم.



- چه کسری از کیک را من خورده‌ام؟
 چه کسری از کیک خورده شده است؟
 چه کسری از کیک باقی مانده است؟

۴) شکل‌های زیر را به ۴ قسمت مساوی تقسیم کنید.



۵) پوریا ۳۴ امتیاز داشت. دیروز ۱۹ امتیاز و امروز ۸ امتیاز دیگر گرفت. پوریا چند امتیاز دارد؟

۵) الگوهای عددی زیر را ادامه دهید.

۲۵	۲۷	۳۱	۳۷			
۹۸	۹۵	۹۲				

۶) عدد به دست آمده را به حروف بنویسید.

ل	م	ر	ه	ح	ش	ص	ق	ض	ف
۳	۵	۲	۱	۰	۴	۶	۷	۹	۸

- م ل → سی و پنج
 ح ه →
 ح ش →
 ح ش →
 ص ف →
 ض ق →

خیلی خوب خوب قابل قبول نیاز به تلاش بیشتر





۱ کلمه‌هایی را بنویسید که تمام نقطه‌های آن‌ها بالای کلمه باشد.

Five empty rounded rectangular boxes for writing words.

۲ جاهای خالی را کامل کنید.

این پادشاه به مردم ظلم و ستم می‌کرد. (ستم‌کار - فداکار)
محل برگزاری اردوی دانش‌آموزی است. (کارگاه - اردوگاه)
این مرد به نیازمندان کمک می‌کند. (نیکوکار - ورزشکار)

۳ با شنیدن هر کدام به یاد چه چیزهایی می‌افتید؟



۴ اکنون که کلاس دوم را به پایان رساندم

۵ در جاهای خالی کلمه‌ی مناسب بنویسید تا کلمه‌ی تازه‌ای ساخته شود.

نام کار گاه زار
سر بی گار خانه

۶ با کلمه‌های زیر جمله بسازید.

موفق:
پناه:
خدمت:

خیلی خوب خوب قابل قبول نیاز به تلاش بیشتر



۱. کامل کنید.

اصلی ترین ماده‌ی غذایی در ایران است.

آرد از به دست می آید.

باید در مصرف نان کنیم.

۲. روش‌های آسیاب کردن چه تفاوتی با گذشته دارد؟

.....


۳. چه نوع نان‌هایی می شناسید؟

.....

۴. چه کارهایی انجام دهیم تا نان کمتری دور ریخته شود؟

.....

۵. مراحل تهیه‌ی نان را نقاشی کنید.



۶. این دو آسیاب چه تفاوتی با هم دارند؟



۷. شما چه غذاهایی را با نان می خورید؟

.....

خیلی خوب خوب قابل قبول نیاز به تلاش بیشتر

..... نظر یا پیشنهاد والدین:

..... ارزیابی آموزگار: